

Ülesanne nr 1



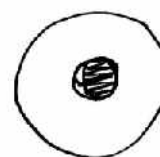
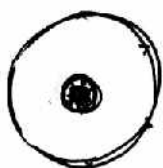
Otsevaade



Küljelt vaade



Tagant vaade



Vaatle jooniseid pliiatsist ja joonista enda **kirjutusvahendist** samalaadsed vaated.


Ülesanne nr 2

Vaatle oma klassiruumi.
Pane tähele, kus paiknevad
aknad, uks, tahvel, pingid,
kapid ja riiulid, valgustid.
Joonista oma **klassiruumi**
otsasein, vajadusel tee
visandeid.
Püüa tabada ruumi
proportsioone.
Kasutades mõõdulinti
mõõtke koos pinginaabriga
seina laius ja kõrgus.
Samuti märgi joonisele
tahvli laius ja kõrgus.




Ülesanne nr 3

Vaatle oma klassiruumi.
Pane tähele, kus paiknevad
aknad, uks, tahvel, pingid,
kapid ja riiulid, valgustid.
Joonista oma **klassiruumi
parem sein**, vajadusel tee
visandeid.
Püüa tabada ruumi
proportsioone.
Kasutades mõõdulinti mõõtke
koos pinginaabriga seina laius
ja kõrgus.
Kui seal on ka aknad, siis
mõõtke ka need ja kandke
joonisele.



Ülesanne nr 4


Vaatle oma klassiruumi.
Pane tähele, kus paiknevad
aknad, uks, tahvel, pingid,
kapid ja riiulid, valgustid.
Joonista oma **klassiruumi
vasak sein**, vajadusel tee
visandeid.
Püüa tabada ruumi
proportsioone.
Kasutades mõõdulinti
mõõtke koos pinginaabriga
seina laius ja kõrgus.
Kui seal on aknad, kapid või
riiulid, siis mõõtke ka need
ja kandke joonisele.



Ülesanne nr 5

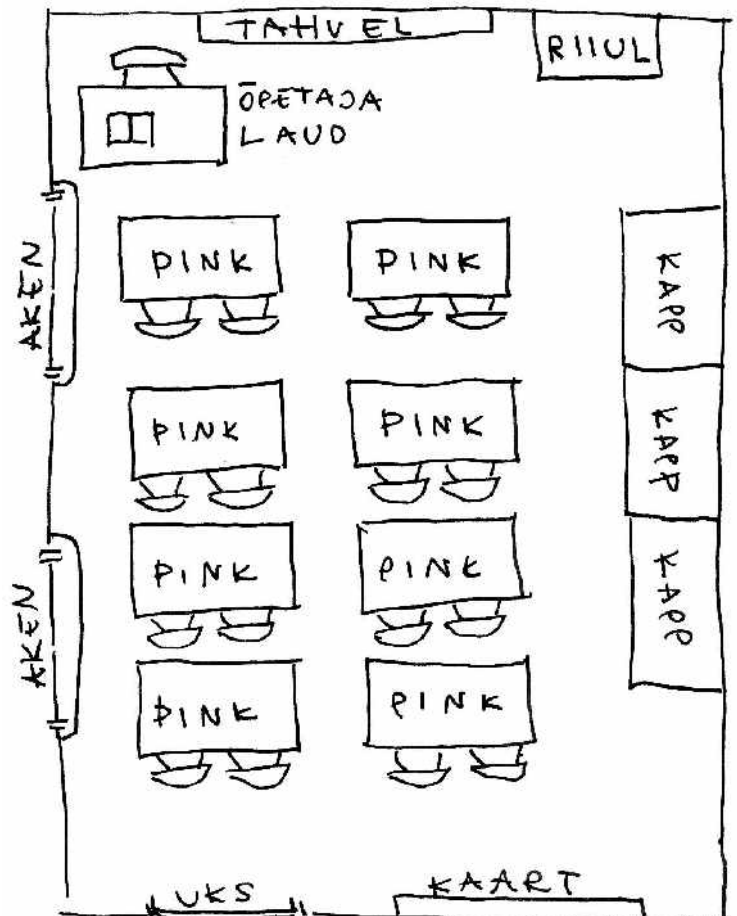
Vaatle oma klassiruumi.
Pane tähele, kus paiknevad
aknad, uks, tahvel, pingid,
kapid ja riiulid, valgustid.
Joonista oma **klassiruumi**
tagumine sein, vajadusel
tee visandeid.
Püüa tabada ruumi
proportsioone.

Kasutades mõõdulinti mõõtke
koos pinginaabriga seina laius
ja kõrgus.
Kui seal on aknad, kapid või
riiulid, siis mõõtke ka need ja
kandke joonisele.





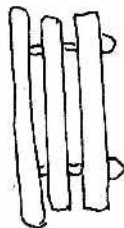
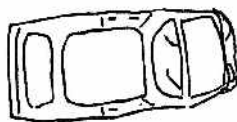
Ülesanne nr 6

Vaatle oma klassiruumi.
Pane tähele, kus paiknevad
aknad, uks, tahvel, pingid,
kapid ja riiulid, valgustid.
Joonista oma **klassiruumi**
pealt vaade, vajadusel tee
visandeid.
Püüa tabada ruumi ja mööbli
proportsioone.
Kasutades mõõdulinti mõõtke
koos pinginaabriga klassi
põranda pikkus ja laius.
Märgi joonisele pingid, kapid,
riiulid. mõõda need ja kanna
andmed joonisele.



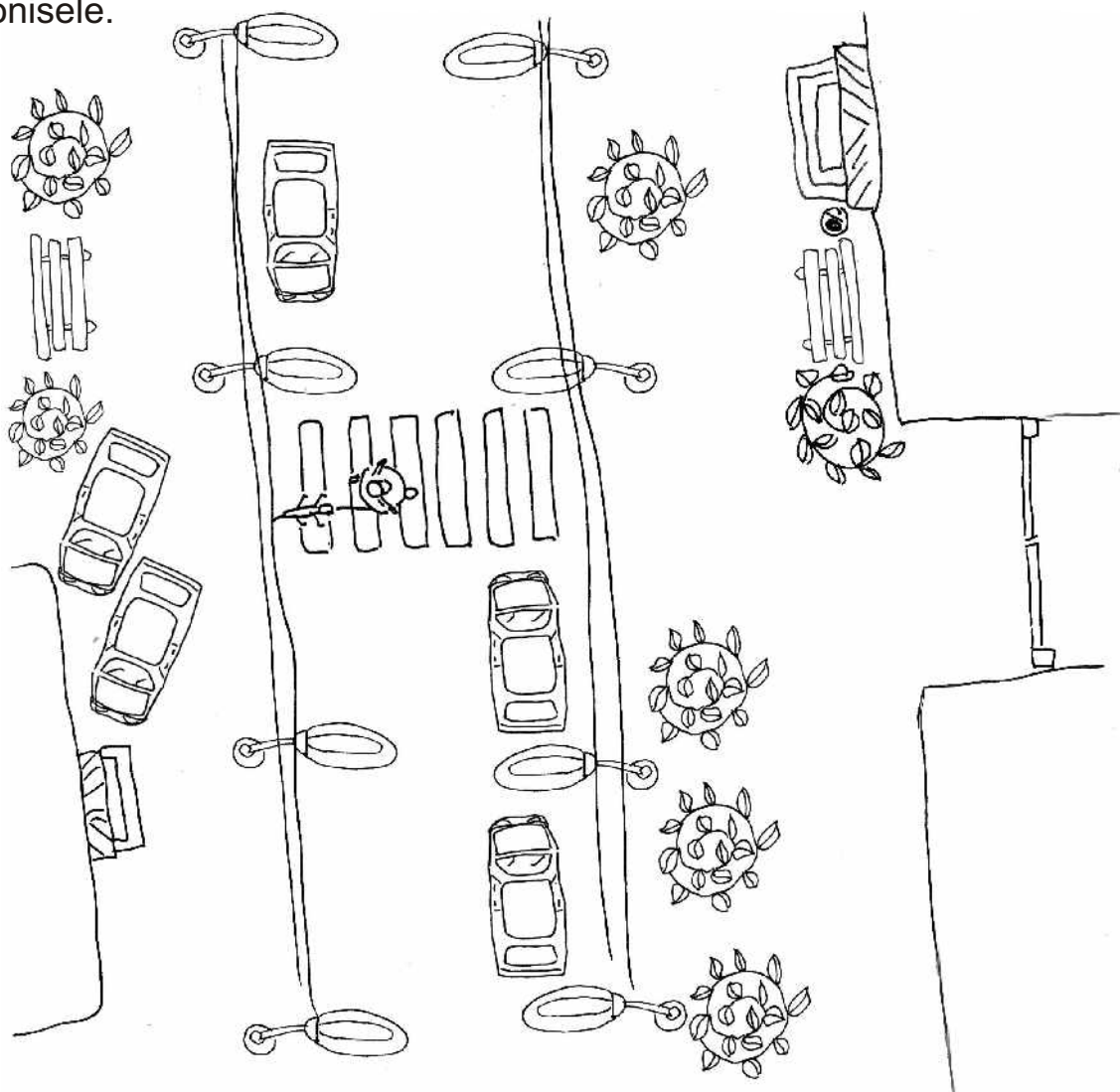
Ülesanne nr 7

Järgnevad elemendid on linnaruumi osad: pink, puu, põõsas, tänavalatern, prügiurn, auto, sebra. Joonista nende tingmärgid.



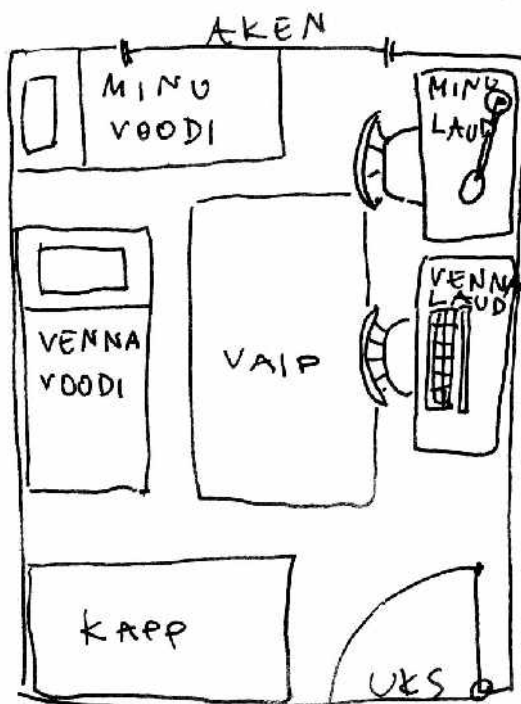
Ülesanne nr 8

Visanda **tänav ülaltvaates** ja kanna oma joonistatud elemendid joonisele.



Ülesanne nr 9

Visanda pealt vaates **oma tuba** või **lemmikruum** oma kodus. Püüa tabada ruumi proportsioone, märgi joonisele mööbel, ukse ja akna avad.



Ülesanne nr 10

Milline on sinu **unistuste tuba**? Visanda see ruum pealt vaates. Püüa tabada ruumi proportsioone, märgi joonisele mööbel, ukse ja akna avad.

